

**Всероссийская олимпиада по технологии
по номинации «Культура дома и декоративно-прикладное творчество».
Муниципальный этап для 8-9 классов
Теоретический тур**

1. Как раньше называли жидкие блюда русской кухни?

Запишите ответ _____

2. Внимательно рассмотрите схему рациона питания человека. Блюда из какого продукта, необходимого в рационе питания человека, не приведены в таблице?

Овощи, фрукты
Крупы и бобовые
Мясо, рыба, морепродукты
?

3. Рассчитайте энергетическую ценность бутерброда, если для его приготовления взяли 50г нарезного батона и 50г сыра. При этом, 100 грамм нарезного батона содержат 270 ккал., а 100 грамм сыра 350 ккал. _____

4. Выберите правильный ответ. К микроорганизмам относят:

- 1) углеводы 2) дрожжи 3) белки

5. Выберите правильный ответ. Изделия из песочного теста имеют такое свойство, как...

- 1) высокая плотность
2) слоистая структура
3) воздушность
4) рассыпчатость
5) вязкость

6. Что обозначают данные знаки по уходу за одеждой. Запишите ответы.



А) _____

Б) _____

7. Одежде из какого материала могут соответствовать знаки, представленные в вопросе 6.

- 1) хлопок 2) лен 3) шерсть 4) шелк

8. Верны ли следующие утверждения о механизмах регулировки швейной машины?

А) Дефект строчки «петляние снизу» можно исправить, увеличив натяжение верхней нитки;

Б) С помощью регулятора длины стежка можно исправить дефект «слабая строчка»

Определите номер правильного ответа:

- 1) только А; 2) только Б; 3) верны оба утверждения; 4) оба утверждения не верны.

9. Запишите правильный ответ. Перечислите виды приводов швейной машины.

10. Выберите правильный ответ. В каком случае может произойти поломка швейной иглы?

- 1) игла ржавая
- 2) игла погнута
- 3) игла вставлена в иглодержатель до упора
- 4) игла вставлена в иглодержатель не до упора

11. Какое технологическое свойство шелковых тканей необходимо учитывать при выборе припусков на швы? Ответ: _____

12. Выберите правильный ответ. Какой машинный шов обозначается следующим образом:



- 1) стачной
- 2) обтачной
- 3) вподгибку с закрытым срезом
- 4) двойной

13. Выберите правильные ответы. Юбки по конструкции бывают:

- 1) прямые
- 2) клиньевые
- 3) диагональные
- 4) конические
- 5) расширенные
- 6) зауженные

14. Как обозначается мерка полуобхват бедер? Ответ _____

15. Выберите правильный ответ. К какой группе швов относится запошивочный шов?

- 1) отделочным
- 2) краевым
- 3) соединительным

16. Выберите правильный ответ. Электрические лампы в электрической цепи могут соединяться:


- 1) последовательно
- 2) параллельно
- 3) перпендикулярно
- 4) смешано

17. К какому типу освещения относятся данные светильники?



Ответ _____

18. Продолжите предложение. Основа первого ряда при вязании крючком называется _____



19. Выберите правильный ответ. Определите по снимку название народного промысла

- 1) ростовская финифть



- 2) палехская миниатюра
- 3) дымковская игрушка
- 4) жостовская роспись
- 5) конаковский фаянс

20. В процессе проектирования к изделию предъявляются определенные требования:

Гигиенические
Эргономические
Технологические
Эксплуатационные
Эстетические
Экономические

.....

Какое требование не указано в этом списке?

Ответ _____

21. Выберите правильный ответ. Какой стиль интерьера помещения характеризуется нестандартными формами и материалами, яркими цветовыми решениями, многоуровневостью и асимметрией?

- 1) классический
- 2) кантри
- 3) минимализм
- 4) модерн

22. Выберите правильный ответ. Ошибки, совершенные при выборе профессии, ведут:

- 1) к укреплению волевых качеств
- 2) к появлению уверенности в своих силах и возможностях
- 3) к возникновению стремления творить
- 4) к невозможности самореализации

23. Выберите правильный ответ. Деятельность, порождающая нечто новое, ранее не существовавшее:



- 1) творчество
- 2) исследование
- 3) преподавание
- 4) моделирование

24. Выберите правильный ответ. К конструктивным критериям оценки проекта, относятся:

- 1) повторное использования сырья; загрязнение окружающей среды;
- 2) прочность; надежность; тяжесть;
- 3) стандартность технологии; количество используемых деталей; расход энергии и материалов.

25. Творческое задание. Вам предложены силуэты фигур.

1. Предложите по одной модели платья в разных стилях: классическом и романтическом. Используя цветные карандаши, выполните эскизы этих моделей.
2. Опишите внешний вид моделей по предложенной форме.
3. Рекомендуйте ткани (волокнистый состав) для каждой модели.

	
<p><i>1 модель:</i> <i>Изделие</i> _____ <i>Стиль</i> _____ <i>силуэт</i> _____ <i>ткань</i> _____ _____</p>	<p><i>2 модель:</i> <i>Изделие</i> _____ <i>Стиль</i> _____ <i>силуэт</i> _____ <i>ткань</i> _____ _____</p>